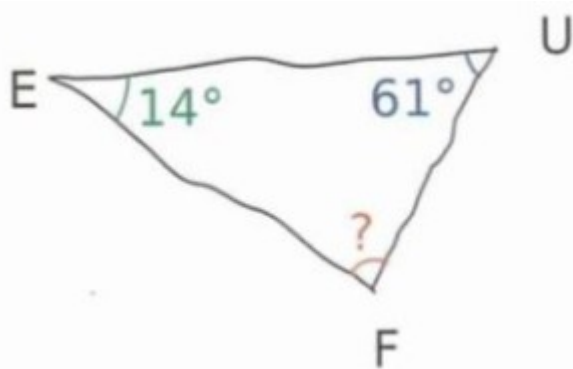


5IE14 Angles et triangle

Question 1

/ 1

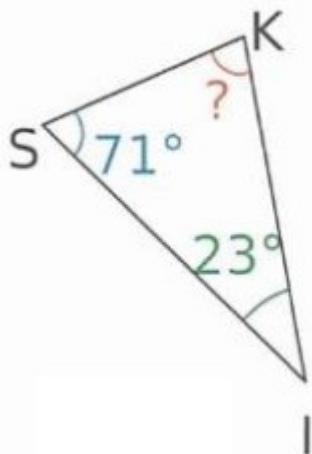
La mesure de l'angle demandé est :



Question 2

/ 1

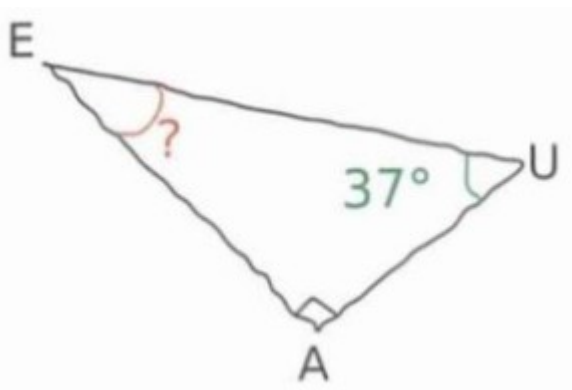
La mesure de l'angle demandé est :



Question 3

/ 1

La mesure de l'angle demandé est :

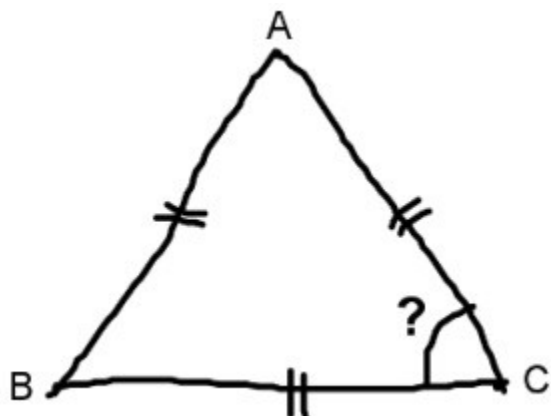


5E14 Angles et triangle

Question 4

/ 1

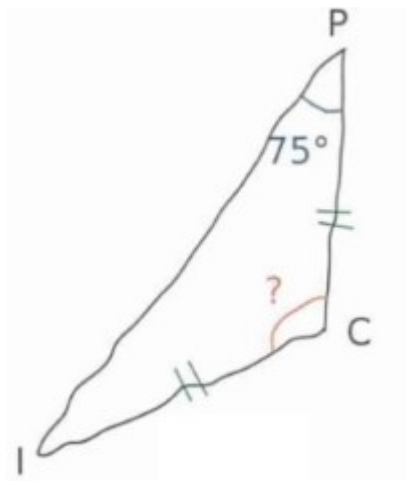
La mesure de l'angle demandé est :



Question 5

/ 1

La mesure de l'angle demandé est :



Question 6

/ 1

La mesure de l'angle demandé est :

